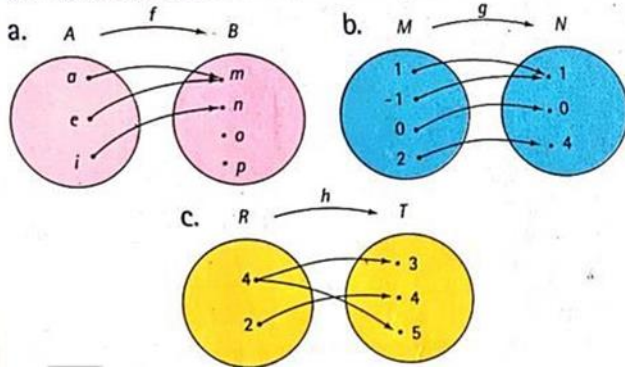
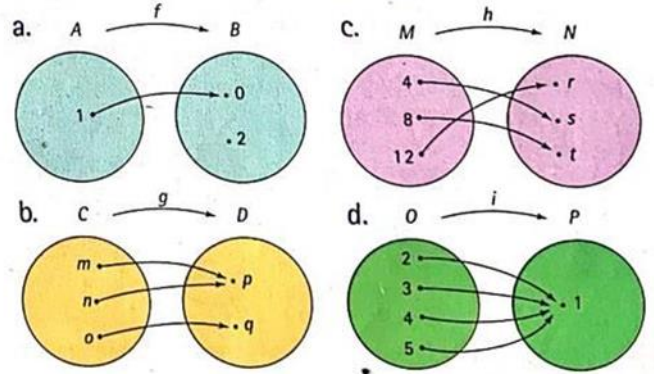


## ACTIVIDAD 1

Indicar cuáles de los diagramas sagitales representan funciones. Justificar cada respuesta.

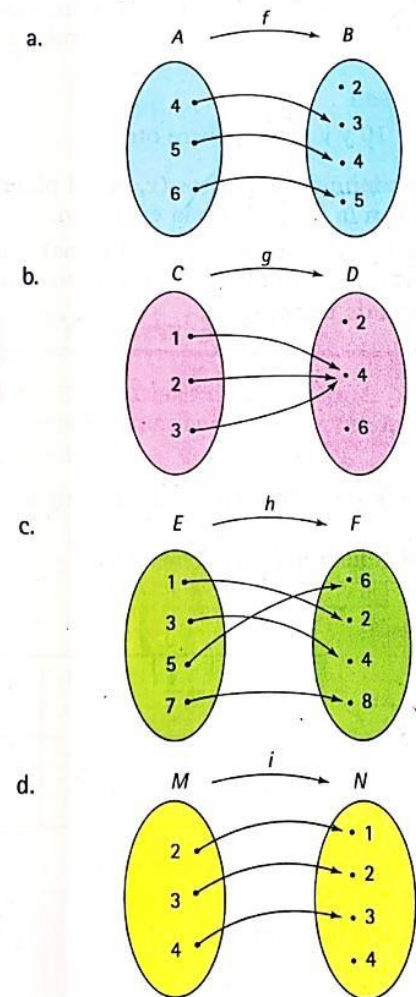


2. Escribir en el cuaderno el dominio, codominio, rango y grafo de cada una de las siguientes funciones.



## ACTIVIDAD 2

1. Definir cada una de las siguientes funciones mediante un diagrama cartesiano y una tabla de valores.



ACTIVIDAD 3

. A partir del diagrama cartesiano, escribir la tabla de valores para cada función.

