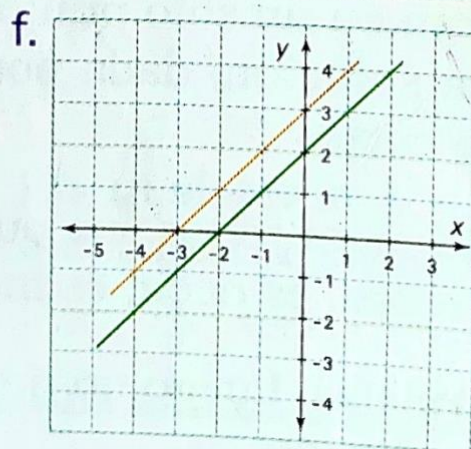
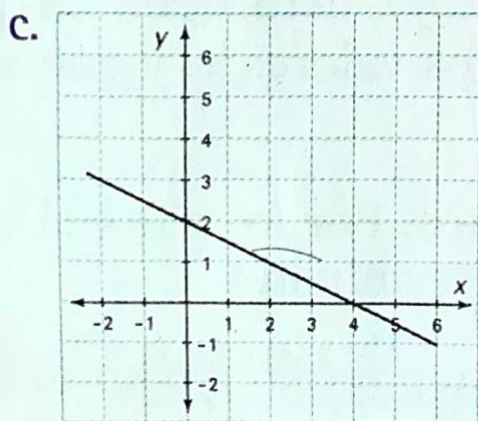
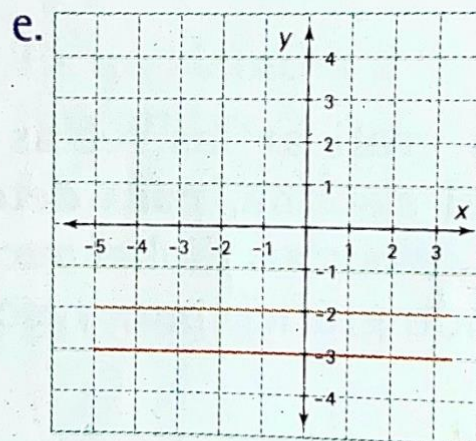
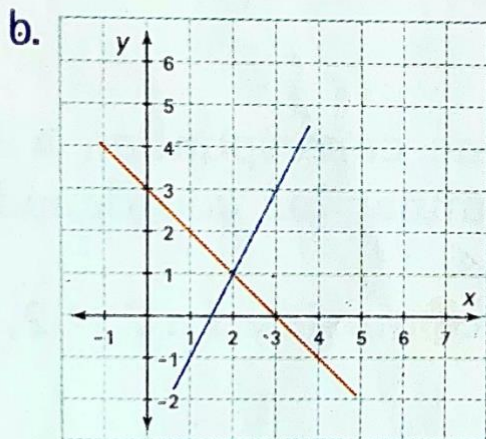
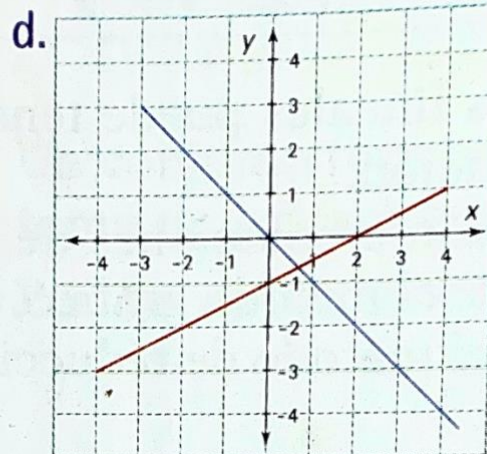
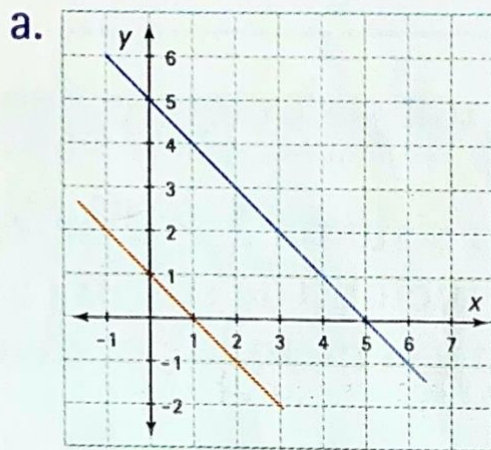


## EJERCICIOS

### ACTIVIDAD 1

1. Indicar qué tipo de solución tiene cada sistema de ecuaciones de acuerdo con su representación.



## ACTIVIDAD 2

Resolver los siguientes sistemas.

- a) 2 por el METODO GRAFICO ( a y c).  
b) 2 por el METODO SUSTITUCION ( b y d).

$$a. \begin{cases} x + y = 5 \\ 2x - y = 4 \end{cases}$$

$$c. \begin{cases} 2x + y = 9 \\ 3x - y = 1 \end{cases}$$

$$b. \begin{cases} 4x - y = 5 \\ 2x + y = 7 \end{cases}$$

$$d. \begin{cases} x + 2y = 3 \\ 3x - y = 2 \end{cases}$$