

TEMA: Mi veterinaria favorita

PROPOSITO: Potencializar en los niños y las niñas el amor que ellos tienen por sus mascotas y sensibilizarlos para que conozcan la mecánica de la veterinaria como el lugar donde diagnostican y compran productos.

MOTIVACION:

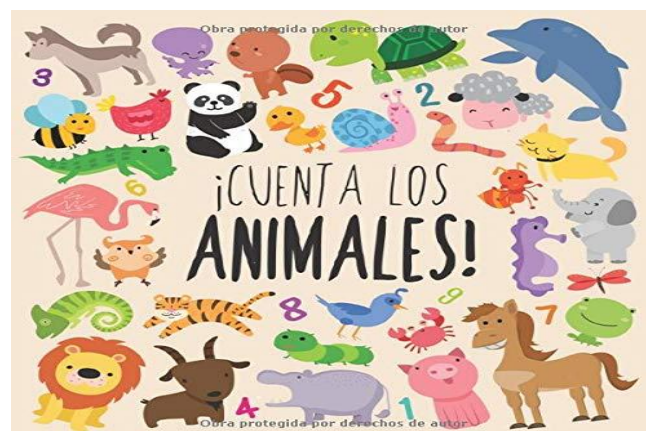
<https://youtu.be/NXQiNdmSF6Y>

1. ¿Como se llama el tío?
2. ¿Qué hace el tío Mario?
3. ¿Que tiene para las jirafas?
4. ¿Que tiene para las gallinas?
5. ¿Que tiene para los pingüinos?

EXPLICACION:

El veterinario es el médico de los animales, es decir, el profesional que se encarga de prevenir, diagnosticar y curar sus enfermedades. ... Además, los veterinarios tienen la posibilidad de orientar su profesión a otros ámbitos también muy interesantes.

Al hablar de compraventa de mascotas hay que tener en cuenta que se trata de seres vivos, por lo que no es posible aplicar los mismos criterios que para un objeto. Es lógico pensar que no podemos acudir a la tienda a devolverlo porque no “nos acaba de convencer”. Esto es algo que debemos tener claro antes de lanzarnos a la compra de una mascota. Daniel Dorado, abogado especializado en Derecho Animal, ha colaborado durante años con asociaciones en defensa de los animales y desde su experiencia afirma que “la compra de animales contribuye a la cría y abandono de los animales”.



Observa y colore

01-06-21

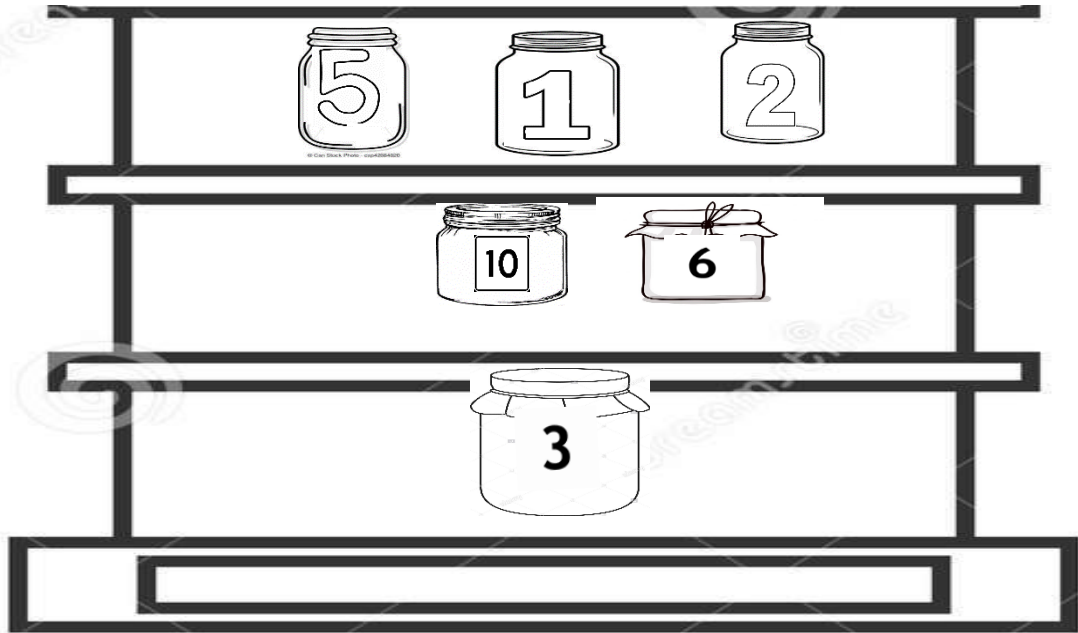
Lleva con línea hacia la puerta los animales que no pueden asistir a una consulta a la veterinaria

veterinaria

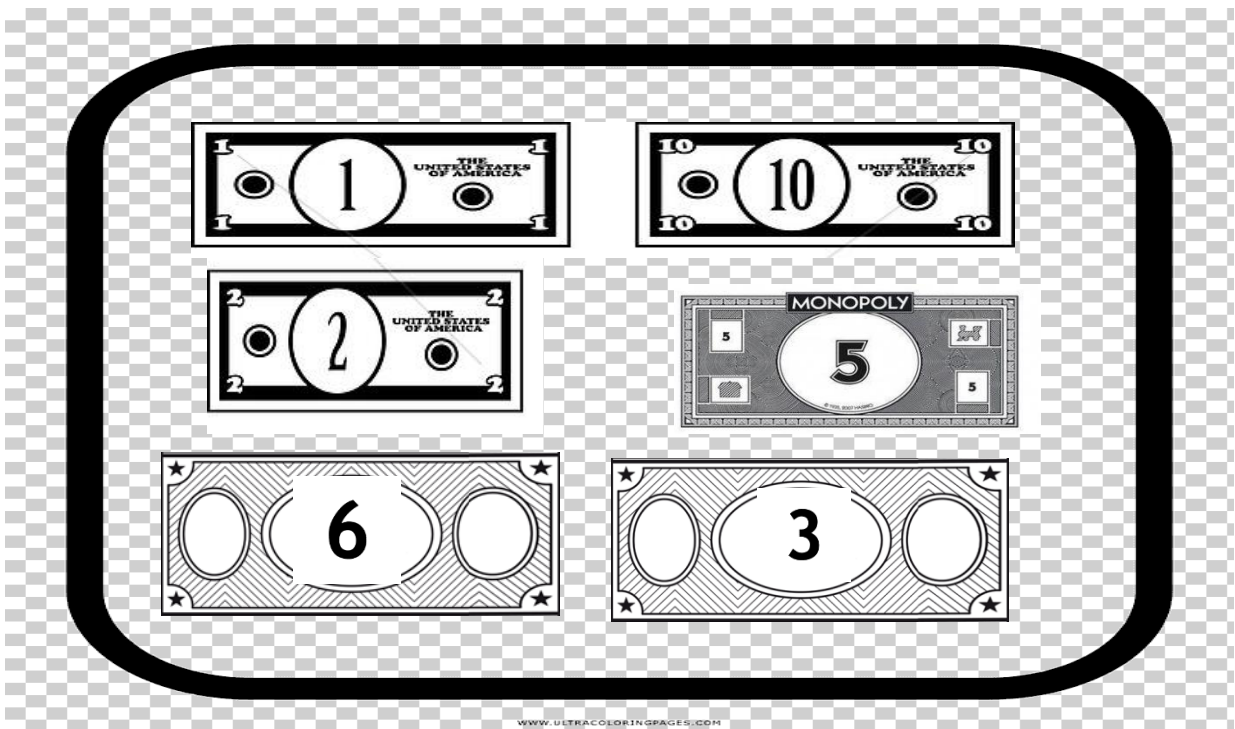


Colorea del mismo color tanto el producto como su referencia de costo


01-06-21



BANCO



Encierra con circulo los productos que se venden en la tienda y con triángulos que se venden en la veterinaria



Con ayuda de tus papitos resuelve el siguiente problema


Un paseo por la tienda de animales

En la tienda de animales hay 3 cobayas , 3 ratoncitos y 2 tortugas.

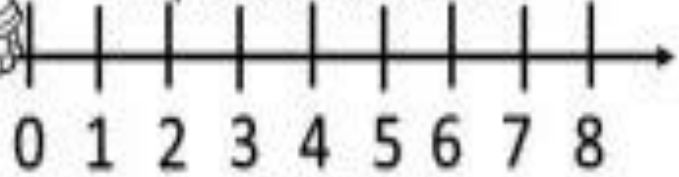
¿Cuántos gatitos hay en la tienda?



Plantea el problema
dibujándolo



Representa en la recta





Mi ecuación

<input type="text"/>	<input type="text"/>	<input type="text"/>	=	<input type="text"/>
----------------------	----------------------	----------------------	---	----------------------

Mi resultado:

<input type="text"/>

Un paseo por el zoo 

He visto 3 jirafas comiendo hojas y 2 monos jugando en los arboles, y en el estanque hay 2 cocodrilos. 

¿Cuántas animales hay en el zoo?



Plantea el problema dibujándolo

Representa en la recta

0 1 2 3 4 5 6 7 8

Mi ecuación

□ □ □ = □

Mi resultado: □   

Elaboración de la tienda

*Recicla empaques, cubetas, cubitos de papel higiénico y demás productos que consumamos en casa

*forrar una caja de cartón

*consigues billetes o has billete con numeración del 0 al 10

*Montaje de la tienda