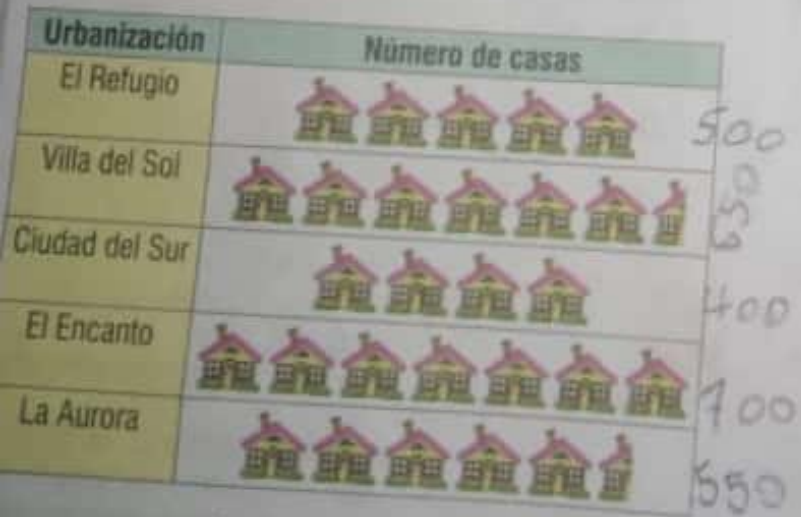




- La mascota de mayor preferencia es el gato. F
- Esta encuesta se realizó a 100 niños. ✓
- La mascota de menor preferencia es el hámster. ✓
- Hay más animales de 4 patas como mascotas, que aves y peces juntos. ✓
- Si un niño va a comprar una mascota, lo más seguro es que elija un perro, un gato o los peces. ✓
- Tan solo por 2 votos los peces superaron a los gatos. F

5. En grupos de 4 o 5 personas anotamos en una hoja los alimentos que más se consumen en nuestras casas y realizamos un pictograma para representar los resultados. Luego, exponemos los resultados al resto del salón comentando por qué debemos alimentarnos nutritivamente.

ACTIVIDAD N° 3:
DESDE LA COMPETENCIA PLANTEAMIENTO Y RESOLUCIÓN DE PROBLEMAS

6. En el siguiente pictograma se muestra el número de casas construidas por 6 urbanizaciones.



Cada  equivale a 100 casas
Cada  equivale a 50 casas

- Elabora una tabla de frecuencia con la información del pictograma anterior.
- Elabora un gráfico de barras con la información del pictograma anterior.
- La urbanización o las urbanizaciones que tienen más de 500 casas construidas son Villa del Sol y El Encanto. La Aurora
- La diferencia de casas vendidas entre la urbanización El Refugio y El Encanto es de 200
- ¿Cuál es el total de casas construidas por todas las urbanizaciones?
2800 69595

7. En la siguiente tabla se muestra el número de asistentes a la biblioteca durante la semana. Con esta información elabora un gráfico de barras.

Día	Asistentes
Lunes	55
Martes	60
Miércoles	75
Jueves	70
Viernes	80
Sábado	95
Total	435