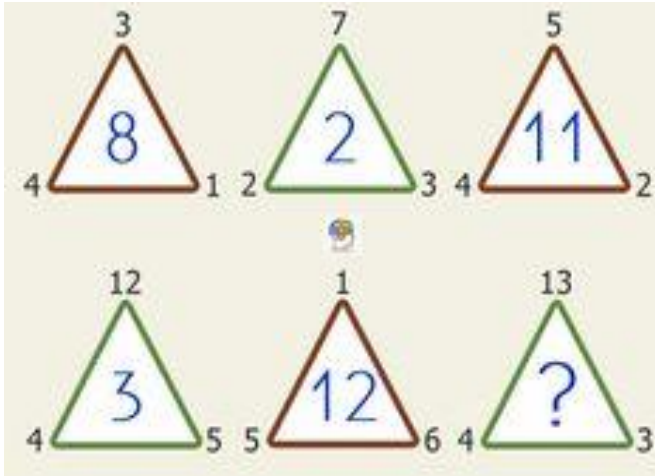



1



Los colores son importantes

2

¿Qué número escribimos sobre la línea gris?



3

$$3 \div \frac{1}{2} + 10 = ?$$

4

5	+	3	=	28
9	+	1	=	810
7	+	3	=	??
8	+	6	=	214
5	+	4	=	19

5

**SOLO PARA GENIOS:**

**Si**  $2 = 6$   
 $3 = 12$   
 $4 = 20$   
 $5 = 30$   
 $6 = 42$   
 $9 = ?$

6

**Si**  $3 = 18$   
 $4 = 32$   
 $5 = 50$   
 $6 = 72$   
**ENTONCES.**  $7 = ?$

7

¿Qué número debe estar en el último triángulo?

© SEIHAL

8

## RETOS MENTALES

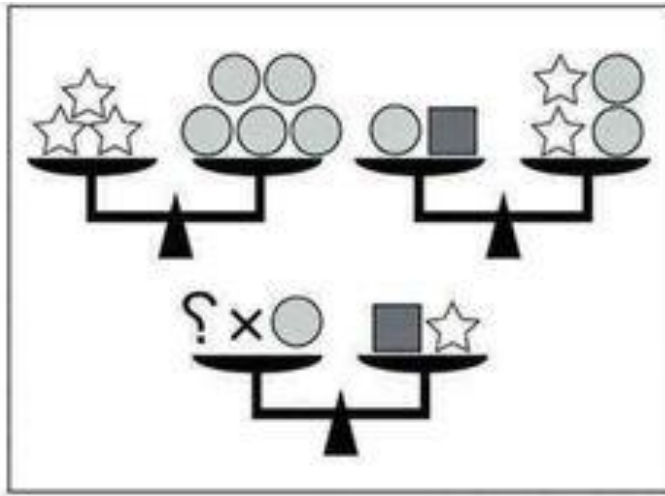
$$D + A = 50$$

$$A + A + A = 120$$

$$D + C = 35$$

$$C = ?$$

9



Solo un número

10



11

Un problemilla que sólo personas con un IQ superior a 120 lo resuelven....

Si.....  
 $2 + 3 = 10$   
 $6 + 5 = 66$   
 $8 + 4 = 96$   
 $7 + 2 = 63$

Entonces:

 $9 + 7 = ?$ 

12

 $7+2=1495$   
 $9+2=1817$   
 $18+4=722214$   
 $6+4=24102$   
 $10+4=40146$   
 $8+3=?$

13

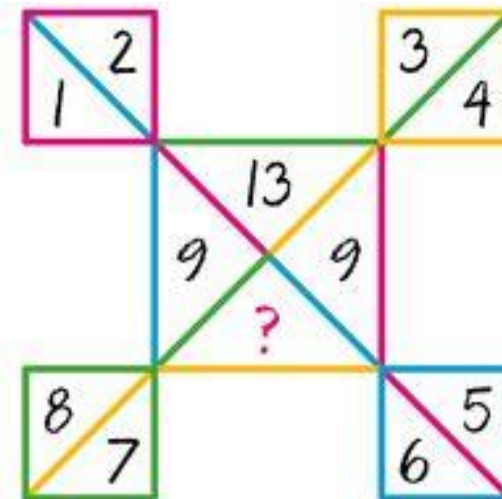
**LOS ENIGMAS DE GRIN**

Soy un número de 3 cifras.  
 La suma de las tres cifras es 18.  
 La primera cifra es la mitad  
 que la segunda  
 y un tercio de la tercera.  
 ¿Qué número soy?

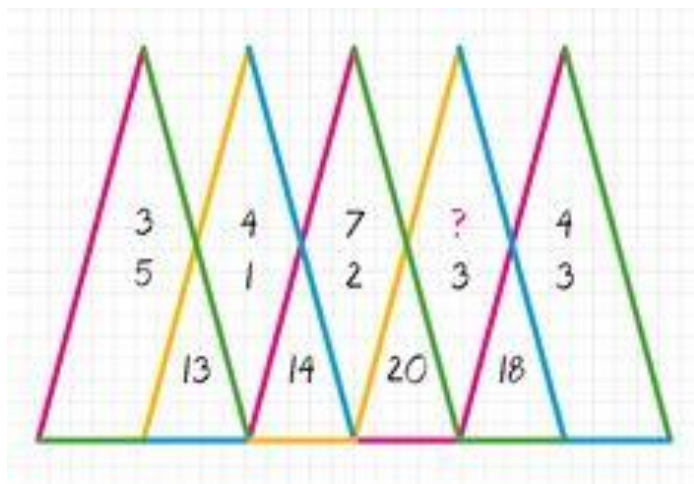
— — —



14



15



16

8 + 2 = 16106  
 5 + 4 = 2091  
 9 + 6 = 54153  
 7 + 5 = 35122  
 20 + 3 = ?

**PRUEBA DE INTELIGENCIA DE ALTO CI**



17

ACERTIJO

Si en una caja de  
5 docenas  
3 de cada decena  
salen rotos

¿CUÁNTOS HUEVOS QUEDAN?



18

$$9 = 72$$

$$8 = 56$$

$$7 = 42$$

Sólo  $6 = 30$

para  $5 = 20$

genios?  $3 = ??$

$$3 = ??$$



19

¿CUÁL ES EL RESULTADO DE ESTA ECUACIÓN MATEMÁTICA?

$$5 \times 5 \div 5(1+4) = ?$$

20

Descubre el  
número que falta

8	4	2
12	6	3
16	8	?