

INSTITUCIÓN EDUCATIVA OFICIAL JOSÉ JOAQUÍN CASAS – CHIA
Taller de repaso



Matemáticas

303

JACKELIN HERRERA

P.E.V.M.

1. Completa la tabla

Número	Se lee	UM	C	D	U
3.381	Tres mil trescientos ochenta y uno	3	3	8	1
3.520					
427					
6.623					
880					
23					

2. Realiza las siguientes actividades.

Rodea los números que tienen una centena.

83	101	4	127
164	99	10	150

Une según corresponda.

254	doscientos uno
201	doscientos ochenta y cinco
276	doscientos cincuenta y cuatro
285	doscientos veintiocho
239	doscientos treinta y nueve
228	doscientos setenta y seis

Escribe.

Doscientos diecinueve →

Doscientos cincuenta y cuatro →




Doscientos tres →

 Aprende.

	C	D	U	
	1	3	4	} Sumandos
+	1	2	2	
<hr/>				
	2	5	6	— Suma o total

Para sumar, se escribe un sumando debajo del otro, colocando las unidades debajo de las unidades, las decenas debajo de las decenas, y las centenas debajo de las centenas.

 Coloca, suma y completa.

$123 + 142$	$178 + 101$	$162 + 126$
		
Sumando: <input type="text"/>	Sumando: <input type="text"/>	Sumando: <input type="text"/>
Sumando: <input type="text"/>	Sumando: <input type="text"/>	Sumando: <input type="text"/>
Suma: <input type="text"/>	Suma: <input type="text"/>	Suma: <input type="text"/>

 Calcula.

$$\boxed{225} \xrightarrow{+3} \boxed{} \xrightarrow{-4} \boxed{} \xrightarrow{-4} \boxed{} \xrightarrow{+6} \boxed{} \xrightarrow{+2} \boxed{228}$$

3. Completa la tabla con los múltiplos del 5 hasta el último cuadro.

5		15					
	50						
			100				
					150		