
	INSTITUCIÓN EDUCATIVA OFICIAL JOSÉ JOAQUÍN CASAS – CHIA Polígonos			
	Geometría	TERCERO	JACKELIN HERRERA	

Propósito:

Identifica los polígonos y desarrolla actividades referidas a sus características y elementos, con apoyo de herramientas Tic y material de uso cotidiano.

Motivación:

Observa el siguiente video, que tiene relación con el tema

<https://www.youtube.com/watch?v=AwdOocKn6m0>

Explicación.

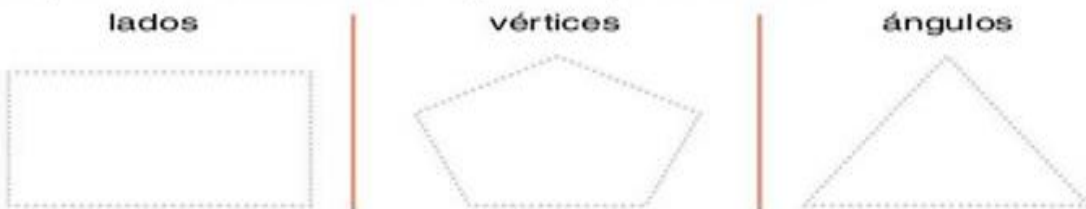
Aprendamos conociendo sobre los polígonos dibujando y realizando las actividades que se presentan a continuación, también los puedes observar en objetos de la casa.

Elementos de los polígonos

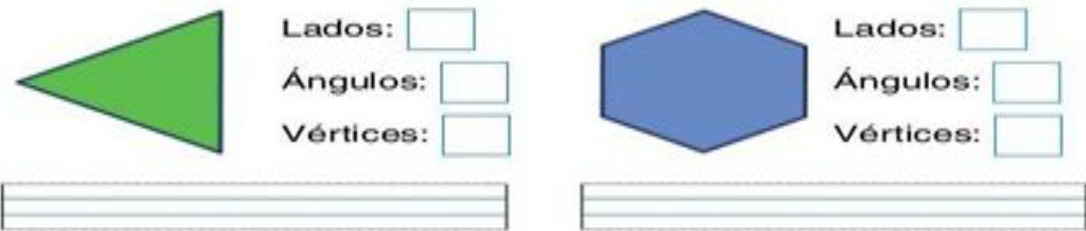
Aprende.



Repasa y señala en cada figura lo que se indica.



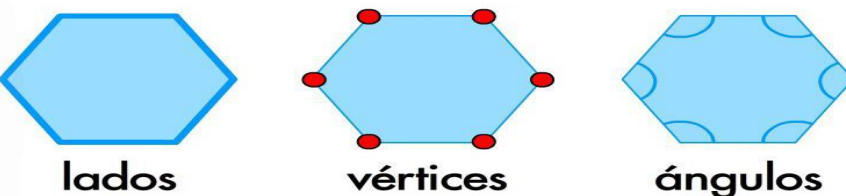
Escribe los nombres de cada figura y completa.



Continúa la serie.



Observa en estos dibujos los elementos de los polígonos y dibújalos.



Ejercicios

Las actividades que trabajarás a continuación te ayudarán para una mejor comprensión sobre los polígonos.

🌀 Une cada figura con la etiqueta que le corresponde.




6 lados, 6 ángulos y 6 vértices



4 lados, 4 ángulos y 4 vértices




5 lados, 5 ángulos y 5 vértices




3 lados, 3 ángulos y 3 vértices


🌀 Completa.

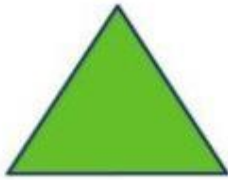
El  tiene lados y vértices.

El  tiene y .

El  tiene y .

El  tiene y .

 Aprende.



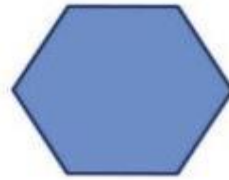
triángulo




cuadrilátero

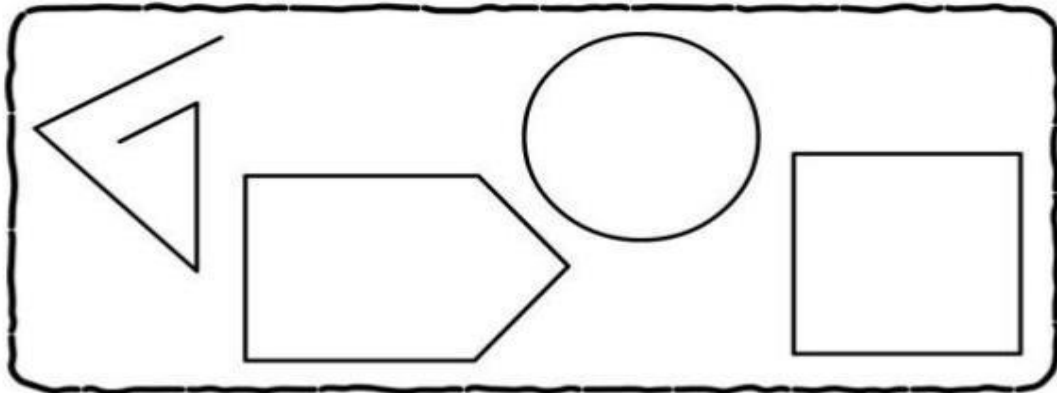



pentágono

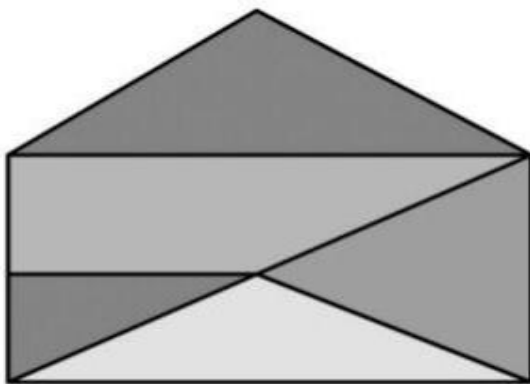


hexágono

 Colorea las figuras que sean polígonos.



 Observa y cuenta polígonos.



triángulos:

cuadriláteros:

pentágonos:

Evaluación

Lee muy bien cada pregunta y fíjate en la información de las imágenes antes de presentar tu evaluación.

https://docs.google.com/forms/d/e/1FAIpQLSctV9VFz77CVgCXFBHs4wcr9zZE44BK5g41aBZT_cDzVPpKaw/viewform?usp=sf_link

Bibliografía.