

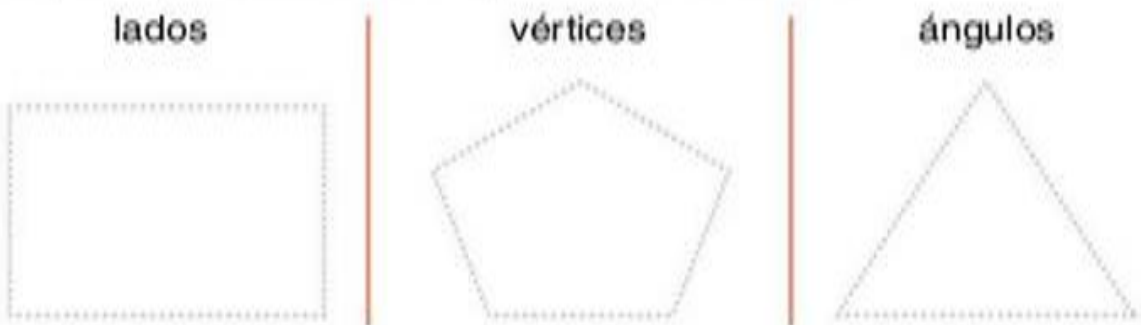


Elementos de los polígonos

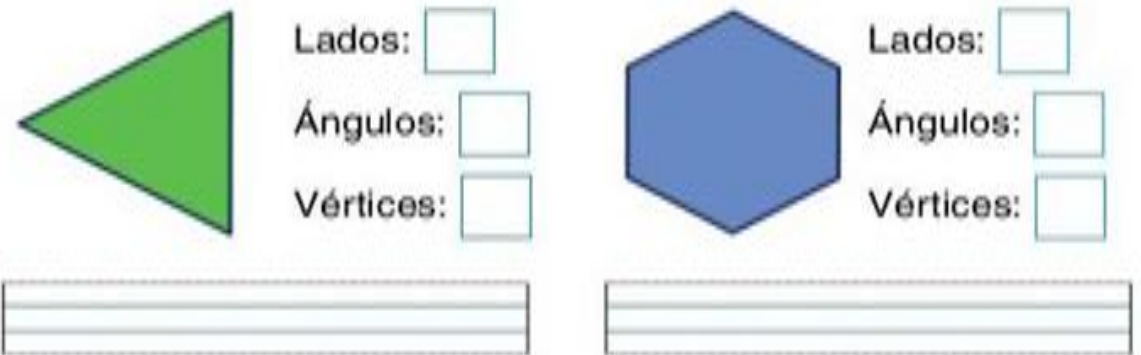
Aprende.



Repasa y señala en cada figura lo que se indica.



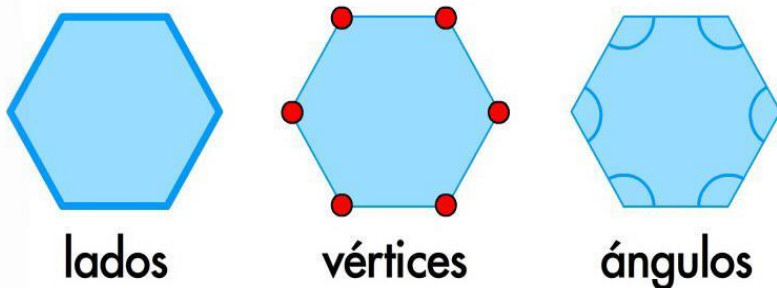
Escribe los nombres de cada figura y completa.



Continúa la serie.



Observa en estos dibujos los elementos de los polígonos:



☞ Une cada figura con la etiqueta que le corresponde.



6 lados, 6 ángulos y 6 vértices



4 lados, 4 ángulos y 4 vértices




5 lados, 5 ángulos y 5 vértices



3 lados, 3 ángulos y 3 vértices

☞ Completa.

El  tiene lados y vértices.

El  tiene y .

El  tiene y .

El  tiene y .

☞ Aprende.



triángulo



cuadrilátero

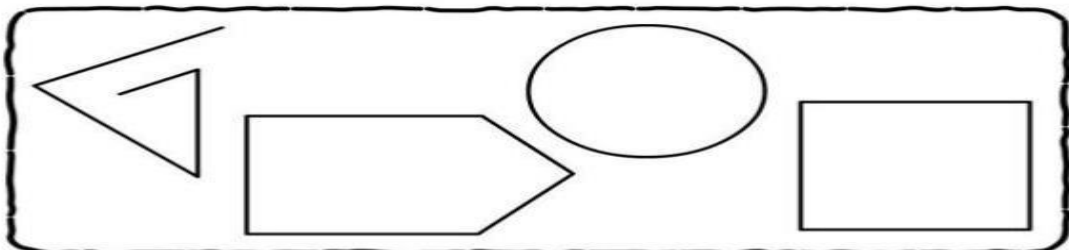


pentágono

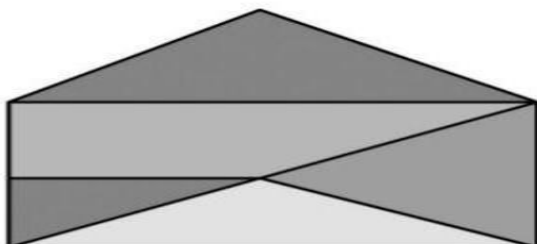


hexágono

☞ Colorea las figuras que sean polígonos.



☞ Observa y cuenta polígonos.



triángulos:

cuadriláteros:

pentágonos: