

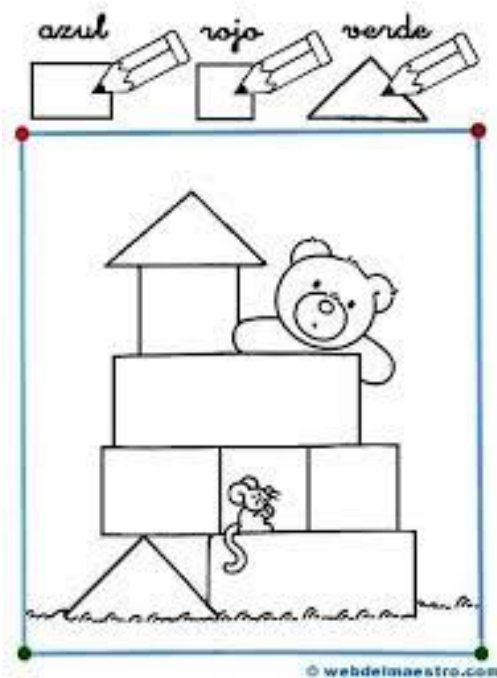


## EVALUACIÓN DIAGNÓSTICA DE MATEMÁTICAS GRADO PRIMERO

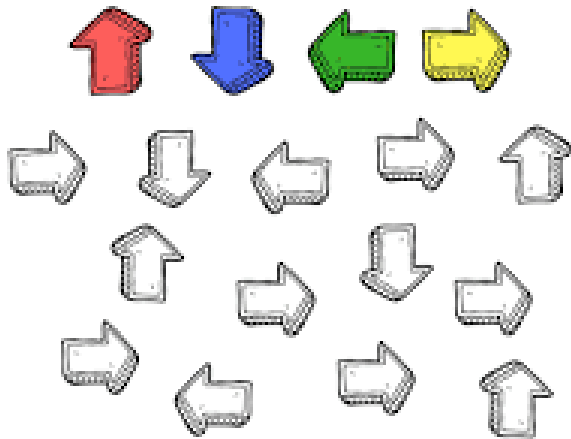
**NOMBRE:**

---

1. *Colorea las figuras geométricas de acuerdo a la instrucción dada*



2. *Observa y colorea las flechas según su orientación.*



3. *Escribe en las líneas el número que va antes y el que va después.*

\_\_\_ 5 \_\_\_  
\_\_\_ 11 \_\_\_

\_\_\_ 16 \_\_\_

\_\_\_ 13 \_\_\_

\_\_\_ 7 \_\_\_



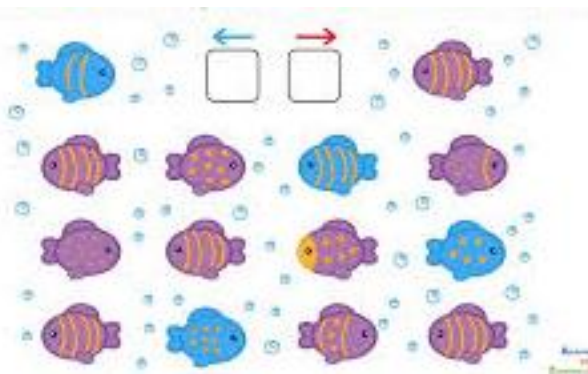
4. Cuenta los dedos de cada mano y une con el número correcto.

	5	
	10	
	1	
	8	
	4	
	7	
	3	
	2	
	6	
	0	
	9	

5. Dibuja la cantidad según el número indicado:

6	
10	
9	
20	
7	

6. Escribe, cuantos peces miran a la izquierda y cuantos peces miran a la derecha

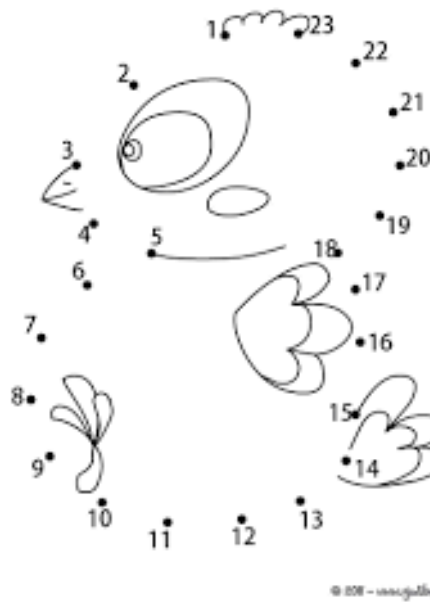


7. Cuenta y organiza de menor a mayor

<input type="text"/>	<input type="text"/>	<input type="text"/>	<input type="text"/>
<input type="text"/>	<input type="text"/>	<input type="text"/>	<input type="text"/>



8. Une los puntos del 1 al 23 y colorea la imagen



© 2007 - www.gallegos.com

9. Cuenta los objetos en cada cuadro, y colorea el número correcto

	8 5 7
	3 4 5
	2 6 3
	7 1 9
	6 9 7

10. Dictado de números.

\_\_\_\_\_

\_\_\_\_\_

\_\_\_\_\_

\_\_\_\_\_

\_\_\_\_\_