

EJERCICIOS

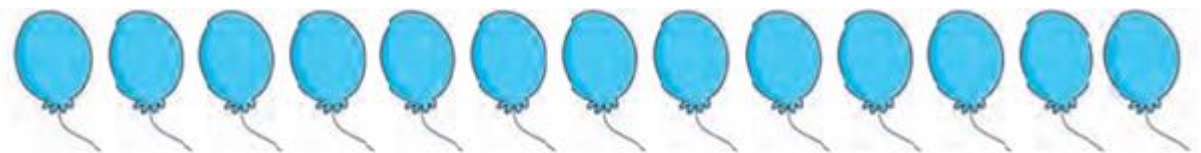
1. Dibuja los marcadores que faltan para completar una caja de una decena de marcadores.



2. Dibuja los elementos que faltan para completar una decena de guitarras.



3. Rodea una decena en cada caso



4. Repasa y escribe

10 = 10 = 10

5. **SOLUCION DE PROBLEMA:** Vanesa tiene siete lápices. ¿Cuántos lápices le hacen falta para completar una decena?

R/ A vanesa le faltan ____ lápices.


6. Escribe los números que hacen falta en las celdas de la colmena para completar la familia del 10, luego colorea.



7. Escribe los números que hacen falta, estos son de la familia del 20, luego colorea



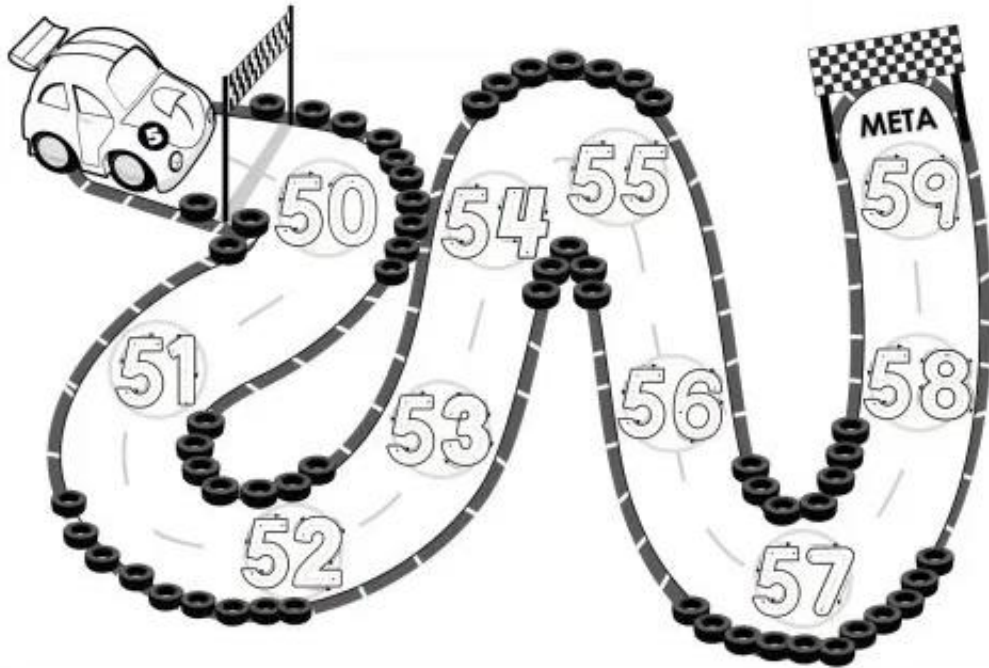
8. Une los puntos según el orden de la familia del 30 y descubrirás la mascota, luego colorea.



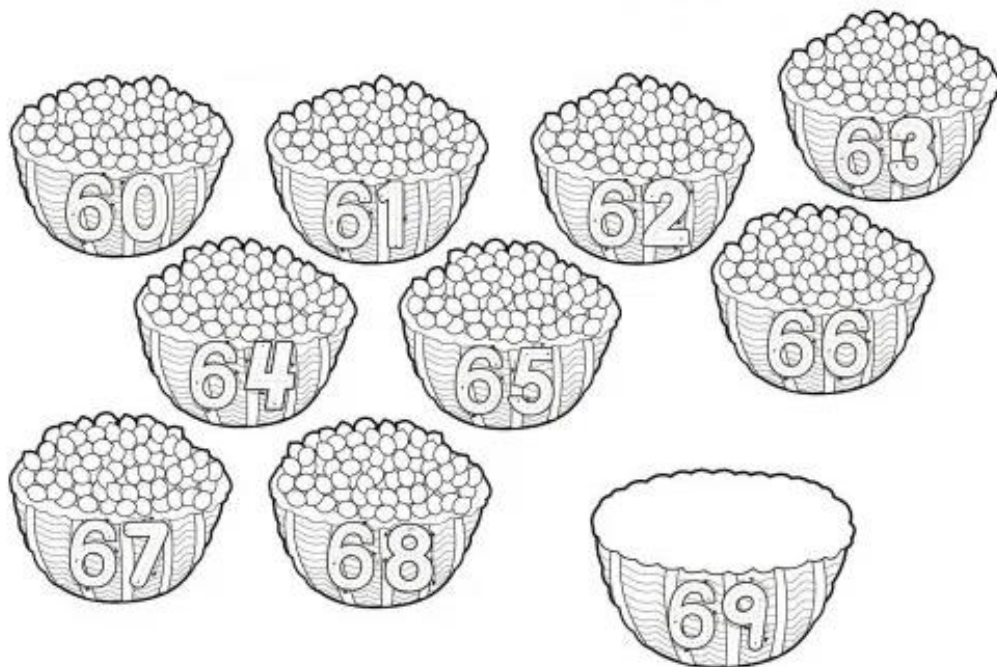
9. Repasa los números de la familia del 40 que se encuentran en las estrellas, luego colorea.



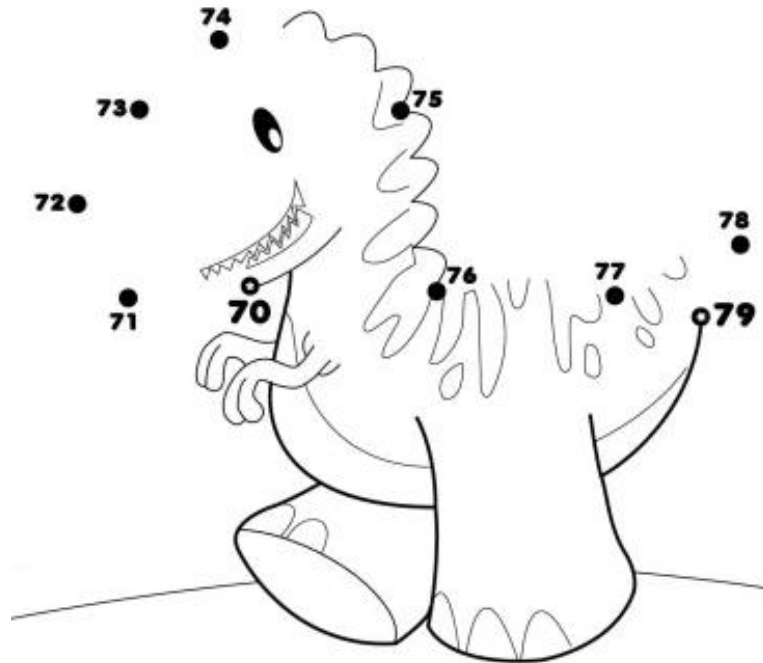
10. Sigue los números de la familia del 50 para que el carro llegue a la meta, pinta el carro con tu color favorito.




11. Repasa los números de la familia del 60 para saber cuántos limones hay en cada canasta, dibuja los limones en el último canasto, colorea.




12. Sigue con tu color verde los números correspondientes a la familia del 70, luego pega bolitas de color verde para decorar el dinosaurio.



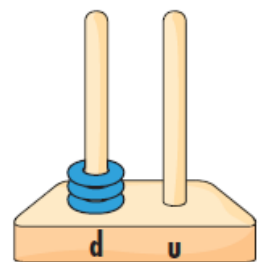
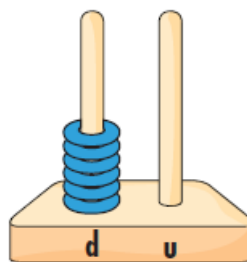
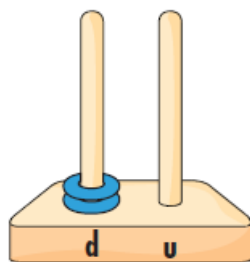
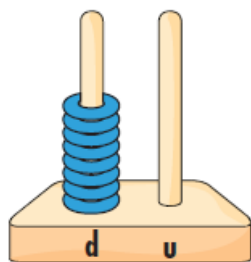
13. Repasa con tu lápiz los números de la familia del 80 y pinta las hormigas de color café



14. Repasa con tu lápiz los números de la familia del 90, luego colorea las velitas del pastel.



15. Escribe el número representado en cada ábaco



16. Une las expresiones que indiquen la misma cantidad

6 decenas

2 decenas

8 decenas

1 decena

5 decenas

80 unidades

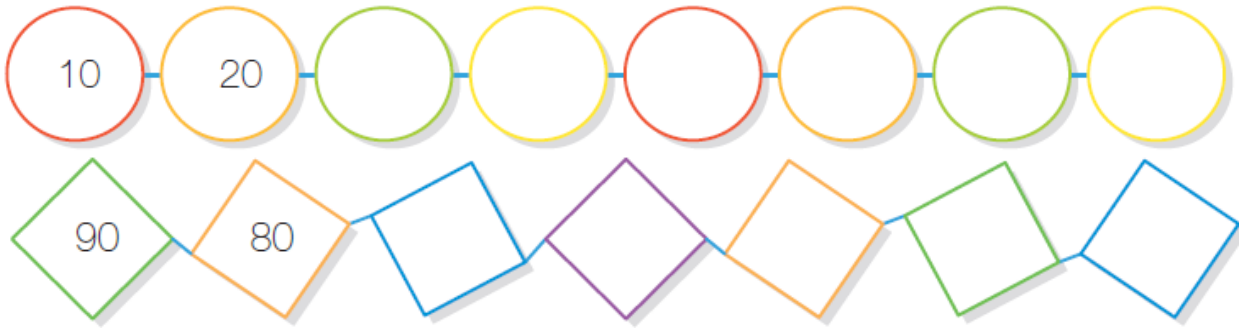
10 unidades

60 unidades

20 unidades

50 unidades

17. Completa las series con las decenas completas



18. Completa la tabla, sigue el ejemplo:

Número	Se descompone	Se lee
46	40 + 6	Cuarenta y seis
19		
94		
50		
37		
23		

19. Relaciona el número con la escritura.
Completa cuando sea necesario.

16	Setenta y dos
98
.....	Noventa y ocho
15	Dieciséis
.....	Cincuenta y nueve

20. Ordena los números de menor a mayor

