

PROPÓSITO:

TALLER 2

- Me ubico en el entorno físico y de representación (en mapas y planos) utilizando referentes espaciales como arriba, abajo, dentro, fuera, derecha, izquierda.

MOTIVACIÓN:

VIDEO: CANCIÓN DE LOS PUNTOS CARDINALES


<https://www.youtube.com/watch?v=xhNh7ihHx6c>

EXPLICACIÓN:

Puntos cardinales son:

Norte, sur, este y oeste. Estos puntos son las guías que necesitas para no perderte, para poder orientarte cuando explores territorios, y para poder interpretar mapas.

Si diriges tu mano derecha hacia donde ves que sale el Sol por las mañanas y tu mano izquierda, hacia donde ves que se pone el Sol por las tardes, estarás mirando hacia el norte, y estarás dando la espalda al sur. Por donde ves salir el Sol se llama este y por donde ves que se oculta el Sol es el oeste.

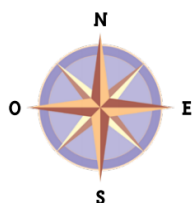


Los puntos cardinales y los mapas

Los puntos cardinales (sur, norte, oriente y occidente) y los mapas son tan útiles como un guía humano que en una excursión te orientara diciéndote dónde estás y hacia dónde puedes hallar lo que necesitas. El este o también llamado oriente es por donde sale el sol y al oeste u occidente por donde se oculta el sol. El norte es el lugar que esta frente a nosotros y el sur atrás.



Los mapas por lo general tienen una brújula que marca los puntos cardinales, ubicada casi siempre en una esquina. Este símbolo tiene una flecha o una estrella que indica hacia dónde está el norte, para que con ese referente tú puedas identificar el resto de puntos cardinales.



Los puntos cardinales intermedios

En algunas ocasiones, debes ubicar puntos o lugares que están en el espacio intermedio entre dos puntos cardinales. Por ejemplo, Australia está al sur de Europa y a la vez está al oriente de dicho continente, de manera que Australia está al suroriente de Europa.

¿Qué son los planos?


Los planos, a diferencia de los mapas, siempre representan superficies planas, es decir que no muestran elevaciones, planicies, ni hendiduras. Los planos representan por lo

general ciudades o edificaciones. Los planos son guías útiles para habitantes y turistas de las ciudades, y para guiar las construcciones de los arquitectos.

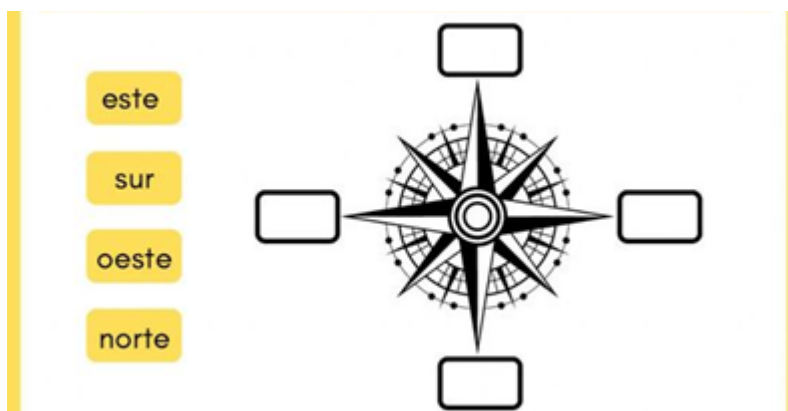
EJERCICIOS:

1. Dibuje alrededor de la casa según las instrucciones:

- Al oriente dibuja un gato
- Al norte una pelota de futbol
- Al sur tres mariposas
- Al occidente cuatro globos



2. Escribe los nombres de los puntos cardinales en el lugar correcto.



3. Completa la oración

El sol sale por _____ y se oculta por el _____

4. Dibuja un plano de tu casa.

EVALUACIÓN:



Con base en este mapa de Colombia, completen las siguientes frases:

- A. El departamento de Atlántico está ubicado al _____ del departamento del Amazonas.
- B. El departamento de Caquetá está ubicado al _____ de la Línea del Ecuador.
- C. Venezuela está ubicado al _____ de Colombia
- D. El departamento de Vichada está ubicado al _____ del departamento Arauca.

BIBLIOGRAFÍA:

1. <https://redes.colombiaaprende.edu.co/ntg/men/archi...>