


**PROPÓSITO:**

Taller # 4

Que los niños se familiaricen con las pruebas que aplica el estado para medir los desempeños alcanzados por los estudiantes .

**MOTIVACIÓN:**



**EXPLICACIÓN:**

Cada pregunta cuenta con cuatro opciones de respuesta donde solo una es la correcta, debe leer cuidadosamente cada una , realizar operaciones si es necesario y marcar en la hoja de respuestas como se indica a continuación.



**EJERCICIOS:**



16. Una caja de helado cuesta \$12.000. Con \$6.000 podemos comprar


- A. 1/2 caja de helado
- B. 1/4 caja de helado
- C. 1 caja de helado
- D. 1/3 caja de helado

17. Sofia tiene guardadas en una bolsa sus 15 balacas: 2 verdes, 3 azules y 10 rojas.



Ella saca sin mirar una balaca; que la balaca sea amarilla es


- A. imposible
- B. poco posible
- C. muy posible
- D. seguro





El hexágono es una figura geométrica de 6 lados. El hexágono mostrado se formó con 6 triángulos iguales.

18. Cada  ocupa un área de 5 centímetros cuadrados; entonces el área ocupada por el hexágono es

- A. 5 centímetros cuadrados
- B. 30 centímetros cuadrados
- C. 15 centímetros cuadrados
- D. 20 centímetros cuadrados

19. Cada  ocupa un volumen igual a 2 centímetros cúbicos.

Si se quiere apilar  hasta ajustar un volumen igual a 14 centímetros cúbicos, entonces la cantidad de  empleados será

- A. 7
- B. 6
- C. 8
- D. 5

De acuerdo con la siguiente información, responde las preguntas 20 y 21.

A la pregunta: ¿Cuál es tu actividad favorita? varios niños responden como se muestra



20. Una tabla que representa las respuestas de los niños es

A.

Actividad	Cantidad de niños
Jugar	3
Comer	3
Leer	3

B.

Actividad	Cantidad de niños
Jugar	4
Comer	4
Leer	1

C.

Actividad	Cantidad de niños
Jugar	5
Comer	3
Leer	1

D.

Actividad	Cantidad de niños
Jugar	5
Comer	1
Leer	3

21. La moda del conjunto de información es

- A. jugar
- B. comer
- C. leer
- D. no hay moda

Una señora compra 3 bandejas de pasteles. Las bandejas son como se muestran en la figura.



22. La cantidad de pasteles que compró la señora Juana es

- A. 6
- B. 18
- C. 24
- D. 54

**EVALUACIÓN:**

Realiza en el cuaderno la hoja de respuesta y contesta las preguntas.

**BIBLIOGRAFÍA:**