

**PROPÓSITO:**

Taller 4 Prueba saber

Que los niños se familiaricen con las pruebas aplicadas por el estado , para evaluar el desempeño alcanzado.

**MOTIVACIÓN:**

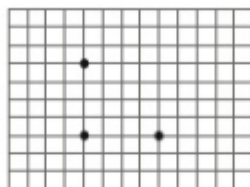


**EXPLICACIÓN:**

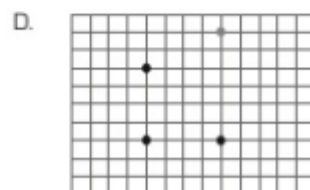
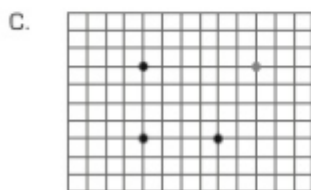
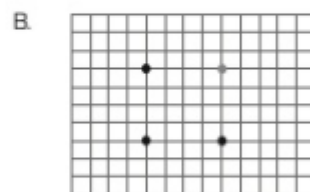
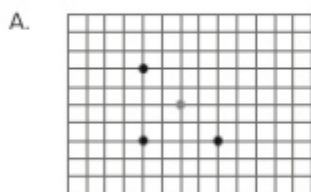
En cada anunciado hay una pregunta con cuatro opciones de respuesta , pero solo una es la correcta.

**EJERCICIOS:**

1. Se quiere dibujar un cuadrado en la cuadrícula y se ubicaron tres puntos .



¿En dónde se debe ubicar el cuarto punto para dibujar el cuadrado?



2. En una fiesta el payaso, realizó una actividad con los invitados y formó grupos con el mismo número de integrantes. Observa.



¿De qué otra manera el payaso pudo haber formado los grupos, si quería que tuvieran el mismo número de integrantes?

A.



B.



C.



D.



3. Observa.

En la cuadrícula se dibujó un esfero.

¿Cuál es la longitud de este esfero?

- A. 1 cm.
- B. 9 cm.
- C. 10 cm.
- D. 13 cm.



**EVALUACIÓN:**

Contestar correctamente las preguntas.

**BIBLIOGRAFÍA:**

pruebas saber aplicadas