

PROPÓSITO:

Identificar los números hasta desde 70 hasta 100 mediante estrategias pedagógicas como videos, canciones, escritura del mismo, textos ilustrativos utilizando material de su entorno con el fin de fortalecer su habilidad de pensamiento en su diario vivir.

MOTIVACIÓN:

SALUDO: Buenos días- Good morning!

ORACIÓN: papito Dios te agradecemos por permitirnos despertar y disfrutar de un nuevo día, ponemos en tus manos este día para que nos guíes y acompañes. Amen

CANTEMOS A DIOS EN NAVIDAD:<https://www.youtube.com/watch?v=zHxg73ppMbs>

HORA DEL CUENTO: “LA ESTRELLA DE NAVIDAD” [009e8aa6fe-la-estrella-de-navidad.docx](#)
como te pareció el cuento? De qué trata el cuento? quienes participan? que sucedió? Escribe y responde en el cuaderno.

EXPLICACIÓN:

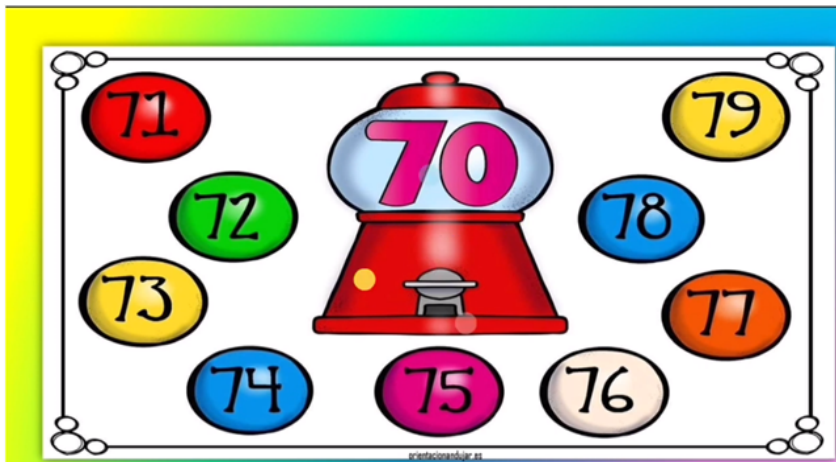
HOY APRENDERAS EL NUMERO 70, 80, 90, 100

-contemos de 10 en 10 hasta 70: 10, 20, 30,40,50,60,70... muy bien
observa cada imagen y aprende;

-Aprende el número 70 y su familia <https://www.youtube.com/watch?v=fgqqR-Ctpv4>

- Ahora sumando formemos el numero 70

- luego desagrupando por decenas y unidades observa



$70+1$	$70+2$	$70+3$
$70+4$	$70+5$	$70+6$
$70+7$	$70+8$	$70+9$

CUANTAS DECENAS HAY

D	U
7	0

setenta



-APRENDE EL NUMERO 80 y SU ESCRITURA <https://www.youtube.com/watch?v=qg0JyJT12Yo>

FAMILIA DEL 80 OCHENTA



Su escritura:

80= Ochenta

81= Ochenta y uno

82= Ochenta y dos

83= Ochenta y tres

84= Ochenta y cuatro

85= Ochenta y cinco

86= Ochenta y seis

87= Ochenta y siete

88= Ochenta y ocho

89= Ochenta y nueve



Número 90 <https://www.youtube.com/watch?v=1ciIBjCMMa8>

-Construye el numero 90 sumando mira el ejemplo:

-Desagrupando por decenas y unidades

La familia del 90



90+0	90
90+1	91
90+2	92
90+3	93
90+4	94
90+5	95
90+6	96
90+7	97
90+8	98
90+9	99


Decenas hasta 90

son

D	U	D	U	D	U	D	U	D	U	D	U	D	U	D	U		
1	0	2	0	3	0	4	0	5	0	6	0	7	0	8	0	9	0
diez		veinte		treinta		cuarenta		cincuenta		sesenta		setenta		ochenta		noventa	



FINALMENTE EL TURNO DEL NUMERO 100 CIEN https://www.youtube.com/watch?v=cd_cTyNLHLw



-10 grupos de a 10
estrellas
Es igual a 10 decenas

-10 decenas es igual
a100



EJERCICIOS:

- Practica en en ingles <https://www.youtube.com/watch?v=D0Ajq682yrA>
- desarrolla la pág. 331,333, 335 del libro guía pequeños exploradores
- Completa la secuencia de números

1	2		4		6	7	8		10
	12		14	15	16	17	18	19	20
	22		24	25		27	28	29	
31	32	33		35		37	38	39	40
41		43	44	45	46	47			50
51		53	54	55	56	57	58	59	
		63	64		66	67	68		
71	72	73	74	75			78	79	80
81	82		84		86	87	88		90
	92	93	94	95			98	99	


-Juega en línea con los numeros

https://aprende.colombiaaprende.edu.co/sites/default/files/naspublic/ContenidosAprender/G_1/M/M_G01_U01_L02/M_G01_U01_L02_03_12.html

EVALUACIÓN:

-Realiza conteo y escritura de los números de 10 en 10 hasta 100

-Completa la secuencia y descubre la figura



BIBLIOGRAFÍA:

https://aprende.colombiaaprende.edu.co/sites/default/files/naspublic/ContenidosAprender/G_1/M/M_G01_U01_L02/M_G01_U01_L02_03_12.html

<https://www.youtube.com/watch?v=D0Ajq682yrA>

<https://www.youtube.com/watch?v=1ciBJcMMA8>

<https://www.youtube.com/watch?v=fgqqR-Ctpv4>

-Libro guía pequeños exploradores