


PROPÓSITO:

Comprender el concepto de suma, mediante ejercicios prácticos con los productos de la tienda, para que puedan resolver problemas sencillos.

MOTIVACIÓN:**EXPLICACIÓN:****EJERCICIOS:**





PROBLEMAS

SUMAR Y RESTAR

Nombre:

Fecha:

1 Hay 3 arañas y llegan 2. ¿Cuántas hay en total?

$3 + \square = \square$

2 Hay 5 sombreros y se rompen 3. ¿Cuántos quedan?



$\square - \square = \square$

3 Tenía 5 calabazas. Si traen 4, ¿cuántas hay en total?






$\square + \square = \square$

4 Tengo 4 murciélagos y se va 1. ¿Cuántos quedan?



$\square - \square = \square$

5 Veo 4 fantasmas y vienen 2 más. ¿Cuántos hay en total?

$\square + \square = \square$

educaplanet.com







EVALUACIÓN:

Nombre: _____

Sumas gráficas




Escribe el resultado de estas sumas. Puedes colorear los dibujos de monstruos.

www.edufichas.com



Nombre: _____



www.edufichas.com

Resuelve:

BIBLIOGRAFÍA: