

PROPÓSITO:

Identificar como está ubicado geográficamente el departamento del Tolima en Colombia .

MOTIVACIÓN:

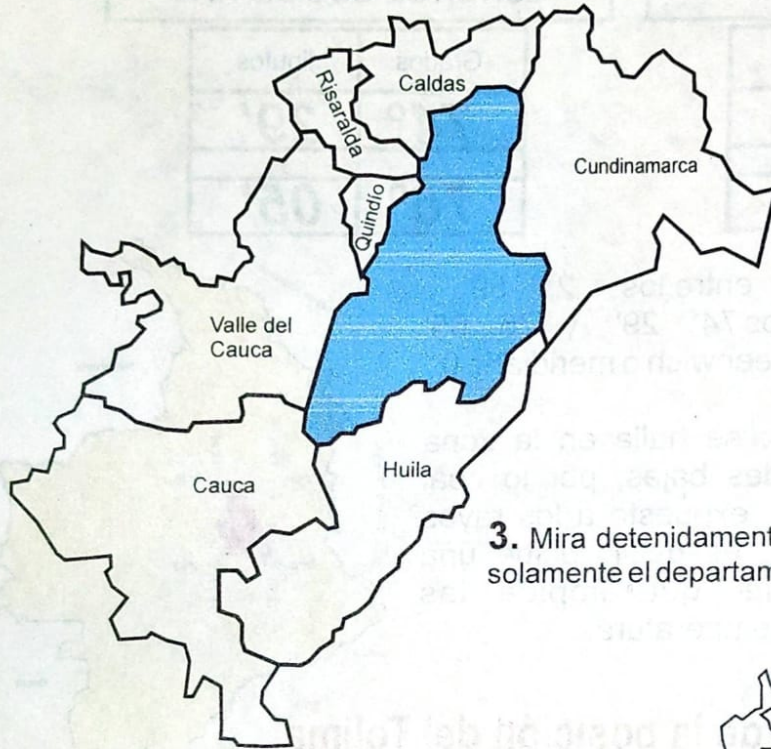
EXPLICACIÓN:

[b927e609f5-posicion-del-tolima-en-colombia.docx](#)

EJERCICIOS:

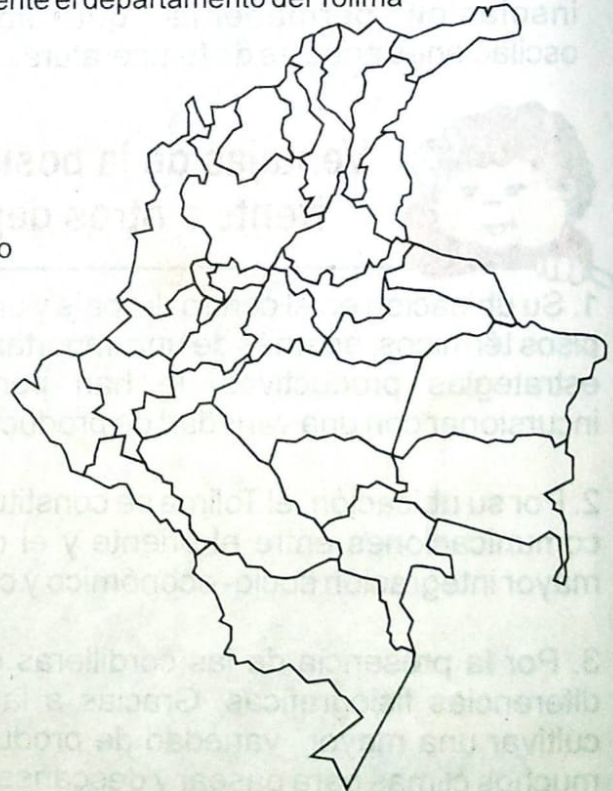
1.Teniendo en cuenta la explicación resolvemos las siguientes actividades

1. Colorea teniendo en cuenta el color del nombre del departamento.



- Caldas
- Cundinamarca
- Huila
- Cauca
- Quindio
- Risaralda
- Valle del Cauca

3. Mira detenidamente el mapa de Colombia y colorea solamente el departamento del Tolima



2. Escribe al frente con que departamento o departamentos limita el Tolima, según el punto cardinal: Guíate por la página 20.

Punto Cardinal	Departamentos
Norte	
Oriente	
Sur	
Occidente	

4. Observa el siguiente vídeo y prepárate para participar en clase.

<https://www.youtube.com/watch?v=wD3ojtJjdrM>

Scanned by TapScanner

2. Interpretamos los contenidos de la posición astronómica y geográfica y respondemos el siguiente cuestionario

1. El territorio tolimese está ubicado:
 - a. En el suroriente de Colombia
 - b. En el centro del país.
 - c. Entre las cordilleras occidental y central.
 - d. En el norte de Colombia.
2. El río que baña de sur a norte al departamento del Tolima es:
 - a. Combeima
 - b. Magdalena
 - c. Totare
 - d. Saldaña
3. El departamento del Tolima está entre las cordilleras:
 - a. Central y oriental
 - b. Central y occidental
 - c. Occidental y oriental
 - d. Occidental y occidental
4. El Tolima tiene una superficie de 23.562.km², que corresponde al 2,1% del territorio Nacional. El lugar que ocupa en extensión entre los 32 departamentos es:
 - a. 18
 - b. 29
 - c. 19
 - d. 16
5. El departamento del Tolima limita al sur con:
 - a. Cundinamarca
 - b. Caldas
 - c. Huila
 - d. Cauca
6. El Tolima limita con Quindio , Risaralda,y Valle del Cauca al:
 - a. Norte
 - b. Oriente
 - c. Sur
 - d. Occidente
7. El Tolima limita con Caldas al:
 - a. Norte
 - b. Sur
 - c. Occidente
 - d. Oriente
8. El Tolima limita con Cundinamarca al:
 - a. Norte
 - b. Sur
 - c. Occidente
 - d. Oriente
9. Una de las ventajas de la posición geográfica del Tolima frente a otros departamentos es:
 - a. Estar ubicado al norte de Colombia
 - b. Cuenta con todos los pisos térmicos
 - c. Posee un mar
 - d. Cuenta con varis aeropuertos.
10. Una de las desventajas de la posición de departamento del Tolima frente a otros departamentos es:
 - a. Estar ubicado en el centro de Colombia
 - b. No poseer mares ni océanos
 - c. No tener la cordillera Central y Oriental
 - d. Poseer el puesto 19 entre los demás departamentos.
11. Cuando estamos hablando de la posición astronómica del Tolima nos estamos refiriendo a:
 - a. Municipios que lo limitan
 - b. Grados y minutos
 - c. Los ríos que tiene el lugar
 - d. Los periodos de lluvia que hay en el año

3 Realizar la siguiente sopa de letras .

[59b664fddc-sopa-de-letras-municipio.docx](#)

EVALUACIÓN:

1. Busca en el diccionario el significado de los siguientes términos y cópialos en cada recuadro.



DEPARTAMENTO



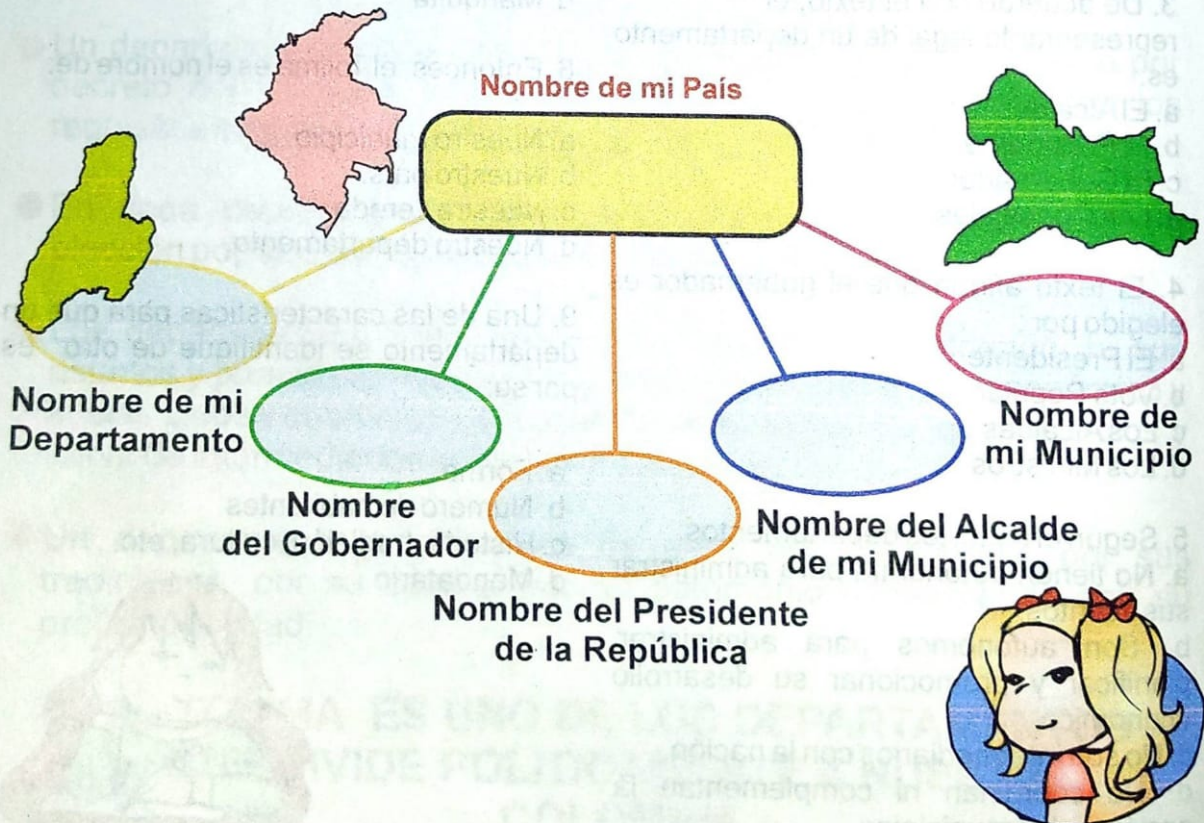
GOBERNADOR

MUNICIPIO



ALCALDE

2. Con la ayuda de tus padres completa el siguiente gráfico:



Recuerda: "Los nombres propios se escriben con Mayúscula"

Scanned by TapScanner

BIBLIOGRAFÍA: